

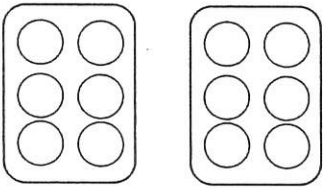
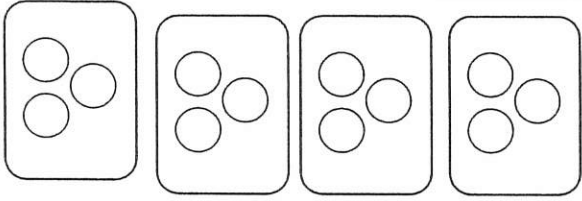
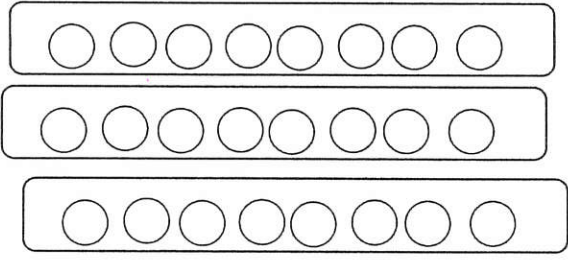
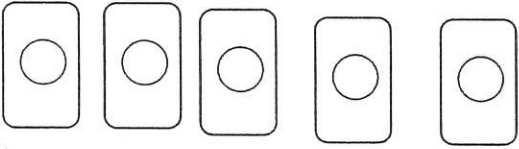
姓名: 周景暘 (13)

班別: 2 A / (B)

優績:
日期: 17-11-2017



請在下列 _____ 上填上適當答案。

1a.		$5 \times 2 =$ <u>5</u> 的 <u>2</u> 倍
b.		$6 \times 3 =$ <u>6</u> 的 <u>3</u> 倍
c.		$4 \times 9 =$ <u>4</u> 的 <u>9</u> 倍
d.		$8 \times 1 =$ <u>8</u> 的 <u>1</u> 倍
2a.		$=$ <u>6</u> 的 <u>2</u> 倍
b.		$=$ <u>3</u> 的 <u>4</u> 倍
c.		$=$ <u>8</u> 的 <u>3</u> 倍
d.		$=$ <u>1</u> 的 <u>5</u> 倍
3a.		$8 + 8 =$ <u>8</u> 的 <u>2</u> 倍
b.		$5 + 5 + 5 + 5 =$ <u>5</u> 的 <u>4</u> 倍
c.		$3 + 3 + 3 + 3 + 3 + 3 + 3 =$ <u>3</u> 的 <u>7</u> 倍
d.		$9 + 9 + 9 =$ <u>9</u> 的 <u>3</u> 倍