

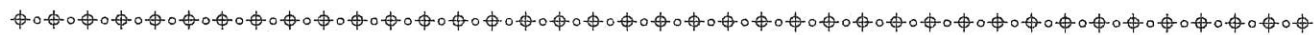
港澳信義會黃陳淑英紀念學校
 2017-2018 年度 數學科 (上學期)
 單元三-應用題(一)
 導向工作紙(三)

姓名：金小梓晴 (17)

班別：1 (A) / B

日期：5-12-2017

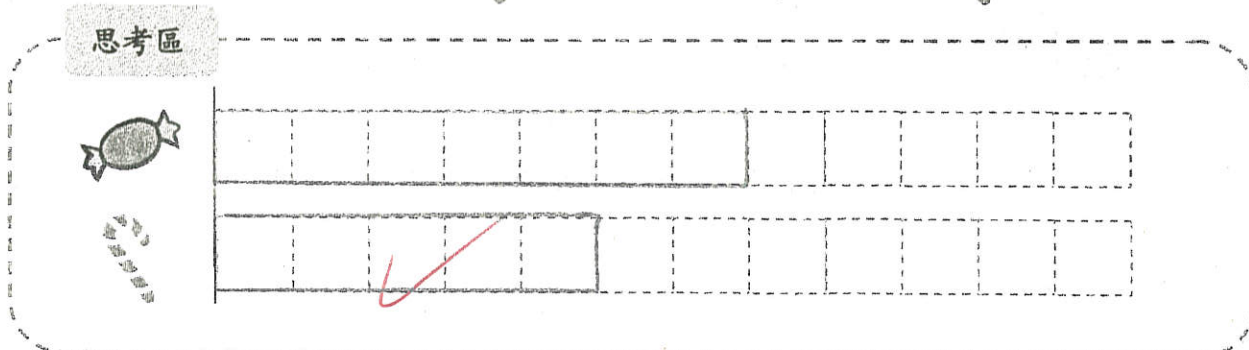
3-1 應用題(一)



(一) 完成思考圖，然後列式解答下列各題。

1. 弟弟有  7 粒， 5 粒，共有  和  幾粒？

思考區




$$\begin{array}{r} 7+5 \\ \hline = 12 \end{array}$$

共有  和  12 粒。

2. 姊姊有毛公仔 16 個，把其中 6 個送給妹妹後，姊姊現有毛公仔幾個？

思考區




$$\begin{array}{r} 16-6 \\ \hline = 10 \end{array}$$

姊姊現有毛公仔 10 個。

3. 馬路邊停泊了  12 輛， 6 輛，

共有  和  幾輛？

思考區



$$\begin{array}{r} 12 + 6 \\ \hline = 18 \end{array}$$


共有  和  18 輛。

4. 哥哥有模型 11 副，弟弟有模型 3 副，哥哥的模型比弟弟的多幾副？

思考區

哥哥的模型

弟弟的模型



$$\begin{array}{r} 11 - 3 \\ \hline = 8 \end{array}$$

哥哥的模型比弟弟的多 8 副。


□ 挑戰題

5. 小麗有髮夾 5 個，小芬有髮夾 4 個，她們共有髮夾多少個？

思考區

小麗

小芬



$$\boxed{5} + \boxed{4} = \boxed{9}$$

她們共有髮夾 9 個。



6/12