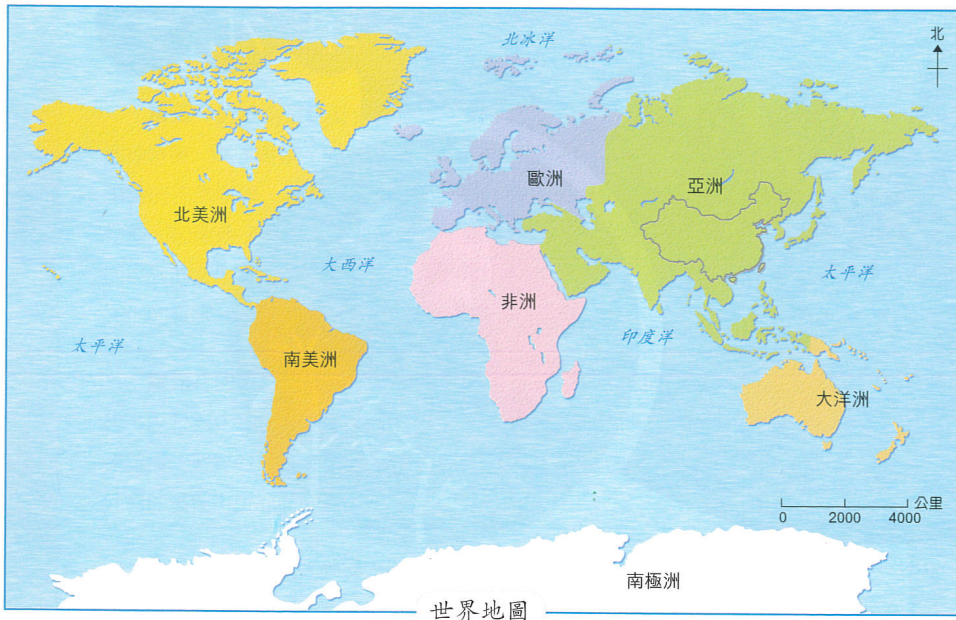


# 1 祖國地理

## 中國在哪裏？

### 1 中國的位置和面積

在世界地圖中找出中國的位置，寫上「中國」二字，然後回答以下的問題。



1. 中國位於哪個洲？
2. 中國的東面是哪個海洋？

猜猜中國的總面積大約相等於多少個香港。

### 找一找

試翻閱世界地圖冊，中國跟各國的面積比較，排行第幾？



### 課外小常識

人們常以甚麼事物來比喻中國版圖的形狀？  
(答案見書內末頁。)

## 中國鄰近有哪些國家？

### 2 中國的近鄰

1. 看看亞洲地圖，找出中國鄰近有哪些國家，把答案填在 \_\_\_\_\_ 上。



### 我的發現

中國的四方與多個國家相連：

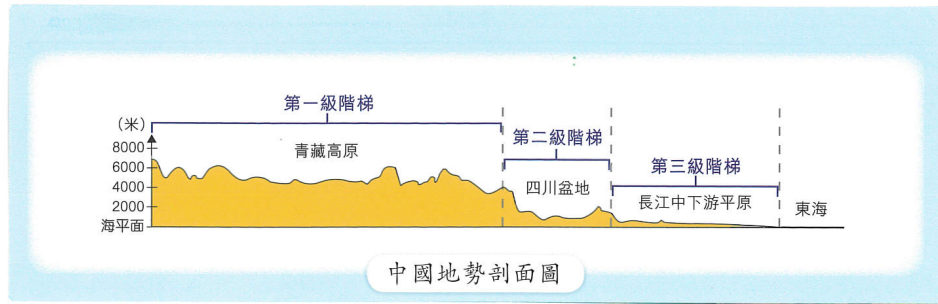
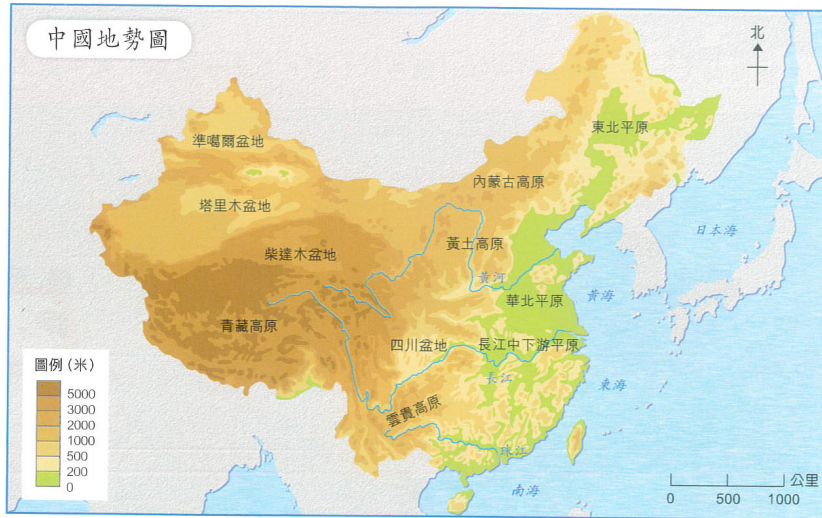
韓國、朝鮮、 日本在 <u>中國</u> 的 _____方。	越南、老撾、 緬甸在 <u>中國</u> 的 _____方。	阿富汗、巴基 斯丹在 <u>中國</u> 的 _____方。	蒙古、俄羅 斯在 <u>中國</u> 的 _____方。
--------------------------------------	--------------------------------------	--------------------------------------	------------------------------------

2. 除了以上提及的國家外，中國鄰近還有哪些你認識的國家？
3. 你認為中國的地理位置有甚麼優越的地方？

## 中國的主要地形是怎樣的？

### 3 三大地形階梯

1. 觀察下圖，找出中國的主要地形。



打開揭頁，說說這三種地形的特色。

2. 試描述這三種地形在中國的分佈情況。

#### 我的發現

中國的地勢特點是西 \_\_\_\_\_ 東 \_\_\_\_\_，主要地形有 \_\_\_\_\_、\_\_\_\_\_ 和 \_\_\_\_\_。

中國不同地形的景色都很美麗。



## 中國有哪些主要的山脈和河流？

### 4 山脈和河流

1. 中國的主要山脈和河流怎樣分佈？



2. 觀察地圖，你有甚麼發現？把答案填在 \_\_\_\_\_ 上。

#### 我的發現

- 中國的山脈大多在 \_\_\_\_\_ 部。
- 中國最高的山脈是 \_\_\_\_\_。
- 水有從高處流向低處的特性，所以中國的河流是從 \_\_\_\_\_ 面流向 \_\_\_\_\_ 面的。
- 中國最長的河流是 \_\_\_\_\_。
- 最接近香港的河流是 \_\_\_\_\_。



#### 想一想

中國東部常常發生水災，你能從中國的地勢特點，推測原因嗎？

## 中國有哪些自然景觀？

### 5 自然景觀同欣賞

中國有不少自然景觀，這些地方除了景色秀麗外，還充滿了趣味。搜集資料，然後向同學介紹它們的特色。



天池



九寨溝



象鼻山



壺口瀑布



喜馬拉雅山脈



西陵峽

調查一下，中國哪個自然景觀最受同學喜愛。

**工作紙** ① 祖國江山如畫。試搜集其中一種自然景觀的圖片和資料，與同學分享。

## 本課總結

### 中國的位置

中國位於亞洲東部，面臨太平洋，國土遼闊。中國的東面是韓國、朝鮮和日本，南面是越南、老撾和緬甸，西面是阿富汗和巴基斯坦，北面則是蒙古和俄羅斯。

### 中國的地形

中國地形複雜，總括來說可以簡化為三種主要地形，它們分別是海拔較高、面積遼闊的高原，被羣山包圍、外圍高中間低的盆地，以及廣闊平坦的平原。中國境內地勢最高的地區集中在西部，東部則有許多平原和低地，地勢像階梯一樣由西面向東面逐級下降。在各種地形中，山地、高原和山丘密集的地帶約佔全國土地面積的三分之二。

### 中國的山脈和河流

中國主要的山脈有天山山脈、崑崙山脈、喜馬拉雅山脈、秦嶺等。喜馬拉雅山脈中的珠穆朗瑪峯，更是全世界最高的山峯。受到天然地勢的影響，中國的河流都是從西面流向東面的。黃河、長江和珠江是中國的主要河流。

中國山河壯麗，有許多珍貴的自然景觀，我們要好好欣賞和保護。

### 網上加油站

登入以下的網站，你會知道更多。  
燦爛的中國文明「中國的世界遺產」  
<http://www.chiculture.net/1201/html/1201b03/1201b03.html>



# 中華兒女



國不同的區域是怎樣劃分的？

## 國的行政區域

一數，中國有多少個省、直轄市、自治區和特別行政區？香港屬於哪一類行政區域？



怎麼要劃分行政區域？

### 一做

的「中國地圖卡」取出，擔大使，向親友介紹中國的或。



### 課外小常識

中國各行政區域都有它們的簡稱，你知道「滬」、「京」、「粵」、「港」分別代表哪些地方嗎？（答案見書內末頁。）

## 總結

國由 個省、 個直轄市、 個自治區和

中國各民族的生活有甚麼特色？

2 有趣的中國民族

中國由多個不同的民族組成，你見過下圖的民族嗎？你對他們有多少認識？



調查一下中國有多少個民族及人口最多的是哪個民族。

小總結

中國由 \_\_\_\_\_ 個民族組成，其中人口最多的是 \_\_\_\_\_ 族。

不同民族的文化各有特色，真有趣！



3 開展研習

志樂和同學準備開展「中華民族風情」專題研習。以下是陳老師給他們的指引。

第一階段：  
擬定主題

第二階段：  
開展研習

第三階段：  
匯報成果

第四階段：  
研習評估

你們想到哪些與民族風情有  
有關的項目呢？



志樂和同學正在擬定主題網。如果由你設計，你會調查哪個民族和哪些項目？



打開摺頁，看看志樂和同學製作的主題網和所搜集的資料。

中國各民族的生活有甚麼特色？

2 有趣的中國民族

中國由多個不同的民族組成，你見過下圖的民族嗎？你對他們有多少認識？



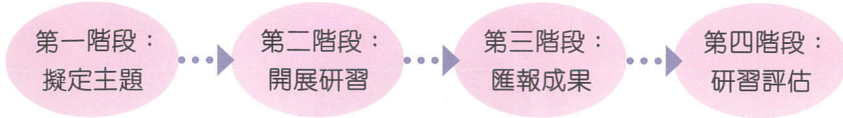
調查一下中國有多少個民族及人口

小總結

中國由 \_\_\_\_\_ 個民族組成  
人口最多的是 \_\_\_\_\_ 族。

3 開展研習

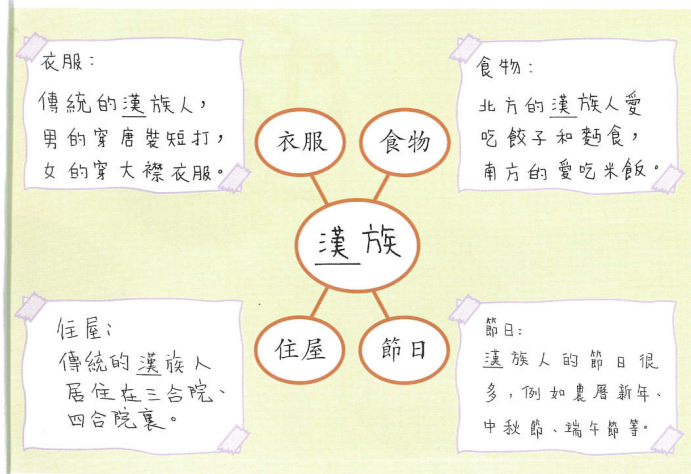
志樂和同學準備開展「中華民族風情」專題研習。以下是陳老師給他們的指引。



你們想到哪些與民族風情有  
有關的項目呢？



志樂和同學正在擬定主題網。如果由你設計，你會調查哪個民族和哪些項目？



打開揭頁，看看志樂和同學製作的主題網和所搜集的資料。

#### 4 中華民族風情

以下是志樂和同學初步整理的資料。閱讀資料，和同學一起了解這些民族的風俗習慣。

##### 回族

回族人散居於中國各地，以寧夏回族自治區和甘肅省較多。



蓋碗茶



清真寺

為甚麼回族人聚居的地方都有清真寺？



回族服飾



主要聚居地  
 回族  
 藏族  
 蒙古族  
 壯族

##### 藏族

藏族人主要聚居在西藏自治區。大多數藏族人在青藏高原上畜牧。



帳篷

為甚麼藏族人居住在帳篷裏？



手抓肉



藏族服飾

##### 課外小常識

藏族著名的「唐卡」是甚麼？  
 (答案見書內末頁。)



那達慕大會



蒙古包

##### 蒙古族

蒙古族主要聚居在內蒙古自治區。蒙古族人生活在北方大草原上，主要從事畜牧業。



烤羊肉



蒙古族服飾

##### 做一做

搜集資料，說說有關蒙古族馬頭琴來源的感人故事。



想一想，為甚麼蒙古族人用毛毯覆蓋蒙古包？



花糯米飯



壯族服飾

##### 壯族

壯族是中國人口最多的少數民族，壯族人主要聚居在廣西壯族自治區。



歌墟節



幹欄

幹欄建築有甚麼特色？為甚麼壯族人住在幹欄建築上？

## 我們怎樣跟不同的民族和睦相處？

### 5 民族融和

1. 以下的小孩在旅遊時，接觸了不同的少數民族。如果你遇上這些情況，你會怎樣做？



我們要尊重不同民族的文化。



2. 在日常生活中，我們可以透過哪些途徑了解少數民族的文化？



**工作紙** 2 搜集一個中國少數民族的資料，完成小型專題報告。

## 本課總結

### 中國的民族

中國國土遼闊，為了方便管理，全國共劃分為 23 個省、4 個直轄市、5 個自治區和 2 個特別行政區。中國是由很多民族組成的，全國共有 56 個民族，其中以漢族人數最多，他們在全國各地居住，大部分住在東部地區。在少數民族中，回族分佈較廣，他們散居於全國各地，其他少數民族則多分佈在西南、西北等地區。

### 不同民族的生活習慣

無論在衣、食、住、節日等各方面，每個民族都有他們獨特的文化和傳統習俗。這些傳統習俗，許多時候都與該民族所處的地理環境有關，例如蒙古族住蒙古包；藏族人住在帳篷裏，這些都是為了方便他們在草原上遊牧而設的。

### 尊重不同的民族

中國各民族在生活方式和語言上，也有許多不同的地方。每個民族的文化都是獨特而平等的，所以我們應該互相尊重和欣賞彼此的文化，與不同民族和平共處。

### 網上加油站

登入以下的網站，你會知道更多。

中國科普博覽「民族博物館」

<http://www.kepu.net.cn/gb/civilization/nation>

